










PŘEČTI SI TEXT

Přemýšlej o tom, jaké informace ti poskytuje tabulka.

Kdo spí nejdéle?

Všechna zvířata si najdou nějaký čas na spaní. Spí různým způsobem. Krávy a ovce spí vestoje a netopýři spí hlavou dolů. Mnoho ptáků spí s hlavou pod křídlem. Různá zvířata spí rozmanitě dlouho. Zvířata, která se pasou, potřebují většinu dne jíst. Tato zvířata mohou trávit spánkem méně času než jiná.

zvířata		hodin spánku za den
	netopýr hnědavý	20
	veverka	15
	lev	13,5
	kočka	12
	pes	10,5
	šimpanz	9,5
	živorodka duhová	7
	slon indický	4
	kůň	3
	žirafa	2

ÚKOL 1 Přečti si zadání. Zakroužkuj správnou odpověď.

1. Účelem tabulky je _____.

- Ⓐ sdělit, která zvířata spí
- Ⓑ prozradit, proč zvířata spí
- Ⓒ ukázat, kolik hodin spí některá zvířata
- Ⓓ doložit, kde některá zvířata spí

2. Jaké informace najdeš v textu, ale ne v tabulce?

- Ⓐ Kolik hodin denně zvířata spí.
- Ⓑ Způsoby, jakými zvířata spí.
- Ⓒ Kolik hodin týdně zvířata spí.
- Ⓓ Kde zvířata ráda spí.

3. Co je podle tabulky pravda?

- Ⓐ Pes spí déle než kočka.
- Ⓑ Šimpanz spí méně než žirafa.
- Ⓒ Kočka spí méně než živorodka duhová.
- Ⓓ Lev spí méně než veverka.

4. Které ze zvířat nejspíš stráví nejvíc času jídlem?

- Ⓐ Netopýr hnědavý.
- Ⓑ Lev.
- Ⓒ Žirafa.
- Ⓓ Slon indický.

ÚKOL 2 Podtrhni v textu tu větu, která sděluje hlavní myšlenku.