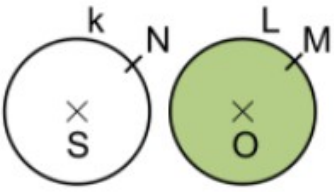
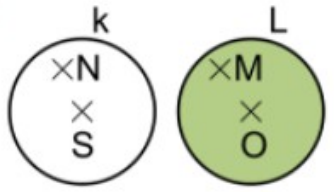
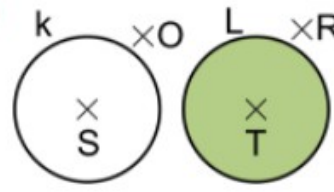


KRUŽNICE, KRUH II
PRACOVNÍ LIST

1 Rozhodněte, které zápisy jsou správné, a označte je křížkem.

<p>A)</p>  <p><input type="checkbox"/> $N \in k$ <input type="checkbox"/> $M \notin L$ <input type="checkbox"/> $N \notin k$ <input type="checkbox"/> $M \in L$</p>	<p>B)</p>  <p><input type="checkbox"/> $N \notin k$ <input type="checkbox"/> $M \in L$ <input type="checkbox"/> $N \in k$ <input type="checkbox"/> $M \notin L$</p>	<p>C)</p>  <p><input type="checkbox"/> $O \in k$ <input type="checkbox"/> $R \in L$ <input type="checkbox"/> $O \notin k$ <input type="checkbox"/> $R \notin L$</p>
--	--	--

2 Rozhodněte, která tvrzení jsou pravdivá, a označte je křížkem.

- | | |
|--|--|
| <p><input type="checkbox"/> Průměr je větší než poloměr.
 <input type="checkbox"/> Kružnice může mít více středů.
 <input type="checkbox"/> Poloměr kružnice značíme písmenem r.</p> | <p><input type="checkbox"/> Průměr značíme písmenem d.
 <input type="checkbox"/> Kružnice je plocha.
 <input type="checkbox"/> Vím, jaký je rozdíl mezi kruhem a kružnicí.</p> |
|--|--|

1 Podle zadání rýsujte do sešitu.

A) Narýsujte kružnici **k** (**S**; 30 mm).

1 Podle zadání rýsujte do sešitu.

B) Narýsujte kružnici **I** (**T**; 4 cm).