














Strava živočichů

Vyberte, čím se živočichové na obrázcích živí, a spojte je s patřičnými rámečky.

					<input type="checkbox"/> maso
Jsou to <i>f</i> _____.					<input type="checkbox"/> seno
					<input type="checkbox"/> obilí
Jsou to <i>m</i> _____.					<input type="checkbox"/> tráva
					<input type="checkbox"/> pečivo
Jsou to <i>o</i> _____.					



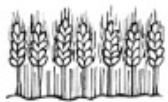



Doplňte: Živočichové přijímají různou potravu. Rostlinnou potravou se živí *f* _____. Masožravci se živí *m* _____. Živočichy, kteří se živí rostlinnou i živočišnou potravou, nazýváme *o* _____.

Osmisměrka

V osmisměrce vyhledejte názvy rostlin a živočichů. Napište je k místu, kde žijí.



L	I	Š	E	J	N	Í	K	Y	S
K	S	C	Í	J	A	Z	P	S	L
O	R	Ž	Á	B	A	T	V	L	U
D	B	Á	L	E	P	U	E	O	N
Ě	A	Č	V	E	S	L	V	N	E
V	Ž	CH	N	A	T	I	E	A	Č
D	A	S	O	V	R	P	R	V	N
E	N	T	L	R	U	Á	K	O	I
M	T	K	V	O	H	N	A	S	C
R	Á	K	O	S	O	P	I	C	E
S	E	P	Ď	A	R	P	A	K	●

		
_____	_____	_____
		
_____	_____	_____

Zbývá písmena: _____

Zástupci živých organizmů

Nakreslete tři zástupce živých organizmů ze svého okolí.

--	--	--

Název:

Název:

Název:

Zvířata

Doplňte název zvířete. Do závorky napište, do které skupiny patří.

_____ maličká, po Dunaji plave... (r_____)

Leze _____ do bezu, já tam za ní polezu... (o_____)

_____ leze z díry, vystrkuje kníry, za ním leze hadice... (p_____)

_____, kde jsi byla, žes tak dlouho nekukala... (p_____)

_____ leze dírou, pes oknem... (s_____)

Dvojice

Vybarvěte dvojice.

Můj stonek se nazývá kmen.

Mé větve vyrůstají ze země.

Mám dužnatý stonek.

Jsem
bylina.

Jsem
strom.

Jsem
keř.



Nakreslete a pojmenujte jednoho z běžně známých obratlovců.

RYBA

OBOJŽIVELNÍK

PLAZ

Název: _____

Název: _____

Název: _____

PTÁK

SAVEC

Název: _____

Název: _____

Doplňte: Živočichové, kteří mají vnitřní kostru složenou z kostí a páteř z obratlů, se nazývají _____.

Vědci je roztřídili do základních skupin. Jsou to: **ryby, obojživelníci, plazi, ptáci a savci.**

