









Zlomky- základní seznámení









2 Zapište zlomkem, jaká část kruhu je na obrázku znázorněna.

A)	B)	C)	D)	E)
				
<input type="text"/>	<input type="text"/>	<input type="text"/>	<input type="text"/>	<input type="text"/>
				
<input type="text"/>	<input type="text"/>	<input type="text"/>	<input type="text"/>	<input type="text"/>





3 Zapište zlomkem, jaká část útvaru je na obrázku znázorněna.

A)	B)	C)	D)
			
<input type="text"/>	<input type="text"/>	<input type="text"/>	<input type="text"/>
<input type="text"/>	<input type="text"/>	<input type="text"/>	<input type="text"/>

3 Porovnejte pomocí matematických symbolů $>$, $<$, $=$. OBTÍŽNÝ PŘÍKLAD

A)	B)	C)	D)
$3 \square 5$	$2 \square 6$	$4 \square 8$	$4 \square 9$
 $\frac{1}{3}$ \square $\frac{1}{5}$ 	 $\frac{1}{2}$ \square $\frac{1}{6}$ 	 $\frac{1}{4}$ \square $\frac{1}{8}$ 	 $\frac{1}{4}$ \square $\frac{1}{9}$ 

4 Napište zlomkem, kolik bonbonů z celku zůstalo v krabici.

A)	B)	C)
		
<input type="text"/>	<input type="text"/>	<input type="text"/>
		
<input type="text"/>	<input type="text"/>	<input type="text"/>

1 Na obrázku je znázorněno, jak moc se v létě v cukrárně prodávaly různé druhy zmrzliny.



- A) Které zmrzliny se prodalo nejvíce?
- B) Které zmrzliny se prodalo nejméně?
- C) Které zmrzliny se prodalo méně než čokoládové?



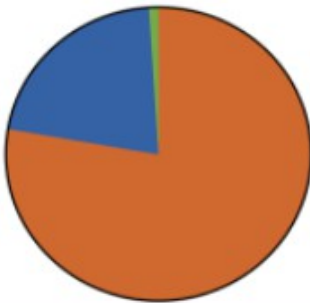
2 Na obrázku je znázorněno, jaké bylo počasí v červenci.



- A) Jakých dní bylo nejvíce?
- B) Jakých dní bylo nejméně?
- C) Jakých dní nebylo ani nejvíce, ani nejméně?



3 Na obrázku je znázorněno, z čeho se skládá vzduch.



- A) Ze kterých plynů se skládá vzduch?
- B) Kterého plynu je ve vzduchu obsaženo nejvíce?
- C) Kterých plynů je ve vzduchu nejméně?

■ kyslík ■ dusík
■ ostatní plyny



4 Na obrázku je znázorněno, jak moc se v prodejně prodávaly různé druhy ovoce.



- A) Kterého ovoce se prodalo nejvíce?
- B) Kterého ovoce se prodalo nejméně?
- C) Kterého ovoce se prodalo více než hroznů a méně než banánů?

